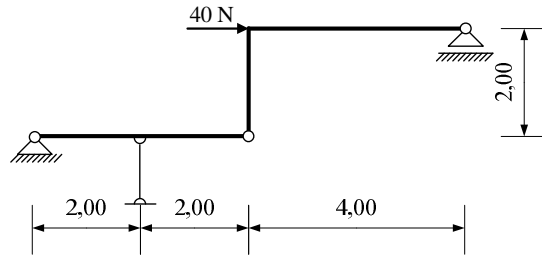
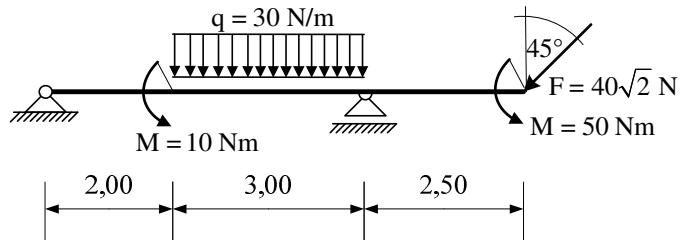


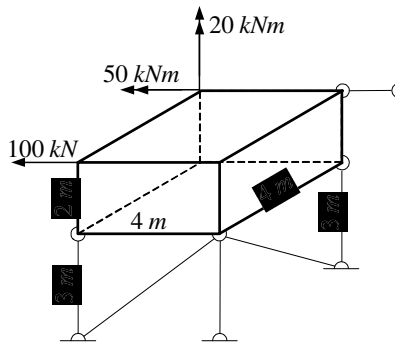
1. Za ravninski štapni sustav odrediti sile u spojevima.



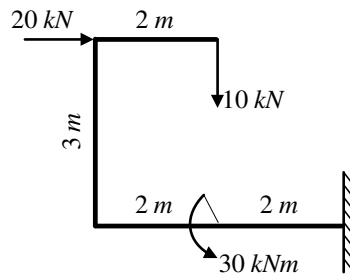
2. Za ravninski štapni sustav računski odrediti podatke te prikazati M, T i N dijagrame (dijagrame crtati u mjerilu te paziti na konstrukciju dijagrama, posebno na lomove i tangente).



3. Zadano je tijelo u prostoru. Izračunati sile u spojevima (statička shema, postupak, stvarna djelovanja).



4. Za zadani štapni element prikazati M, T i N dijagrame.



5. Odrediti sile u spojevima zadanog ravninskog sustava.

