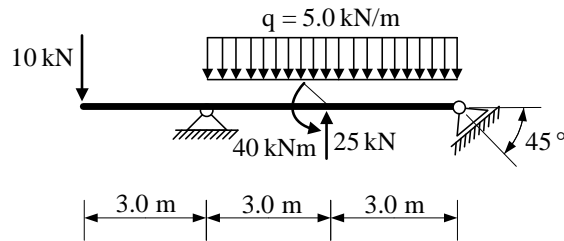
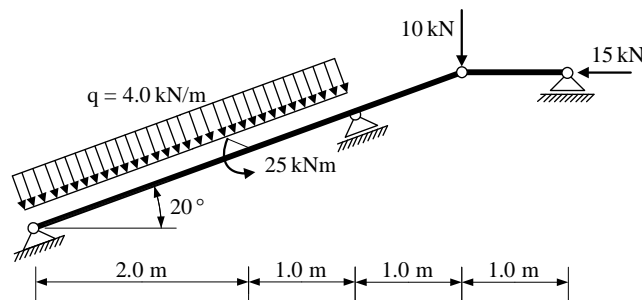


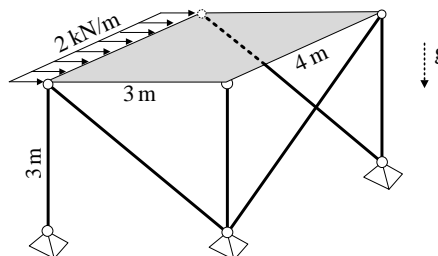
1. Za zadani ravninski sustav potrebno je prikazati M, T i N dijagram (dijagrame crtati u mjerilu te paziti na konstrukciju dijagrama, posebno na lomove i tangente).



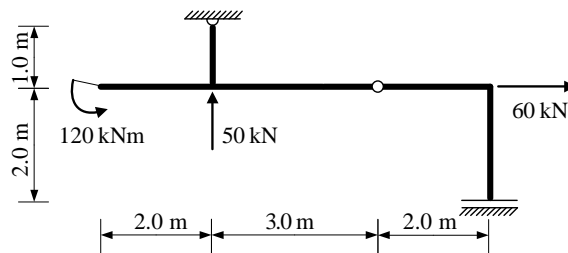
2. Za zadani ravninski sustav potrebno je prikazati M, T i N dijagram.



3. Zadana je kruta ploča težine 1 kN/m^2 . Potrebno je izračunati sile u štapovima zadanoga prostornog sustava.



4. Odrediti sile u svim spojevima zadanog trozglobnog sustava.



5. Odrediti sile u štapovima s , t i k zadanog ravninskog rešetkastog sustava postupkom.

