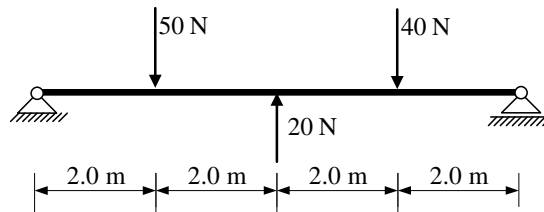
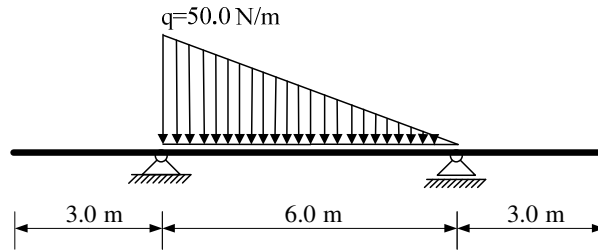


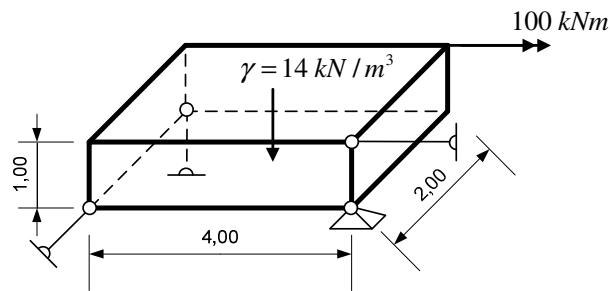
1. Za zadanu prostu gredu odrediti sile u spojevima pomoću verižnog poligona.



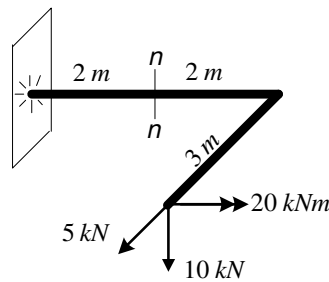
2. Za ravninski štapni sustav odrediti analitičke izraze za M i T te skicirati dijagrame.



3. Zadano je tijelo u prostoru. Izračunati sile u spojevima (statička shema, postupak, stvarna djelovanja).



4. Odrediti vrijednosti momenata M_t , M_1 , M_2 te uzdužnu silu N u presjeku $n-n$ na upetom lomljenom štapu prikazanom na aksonometrijskoj skici.



5. Odrediti sile u spojevima zadanog trozglobnog sustava.

