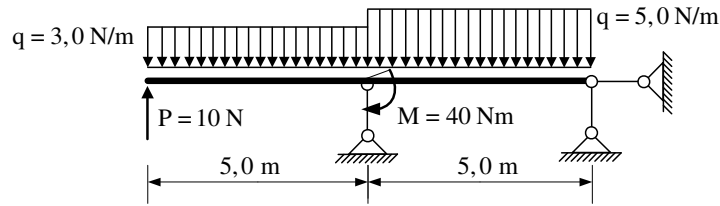
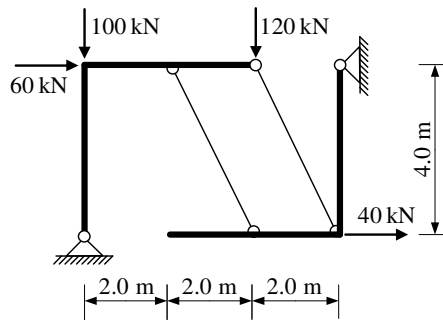


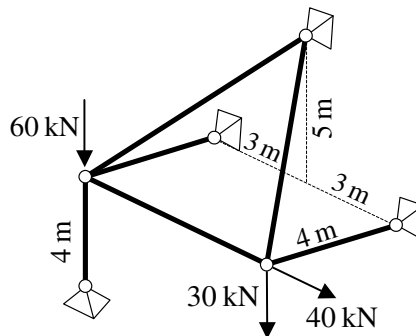
1. Za zadani ravninski sustav potrebno je prikazati M i T dijagram (dijagrame crtati u mjerilu te paziti na konstrukciju dijagrama, posebno na lomove i tangente).



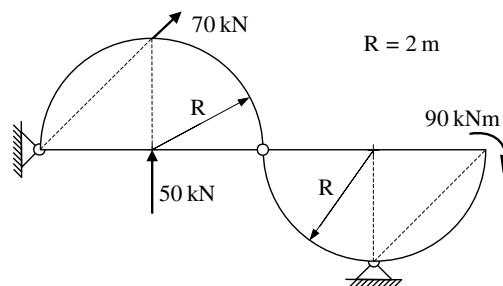
2. Za ravninski sustav potrebno je odrediti reakcije i sile u spojevima.



3. Odrediti sile u svim štapovima zadanog prostornog rešetkastog sustava.



4. Odrediti sile u spojevima zadanog trozglobnog sustava.



5. Odrediti sile u svim štapovima zadanog ravninskog rešetkastog sustava grafičkim postupkom.

