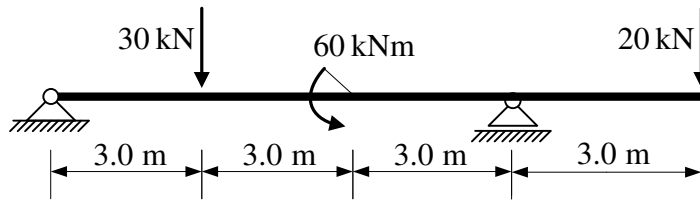
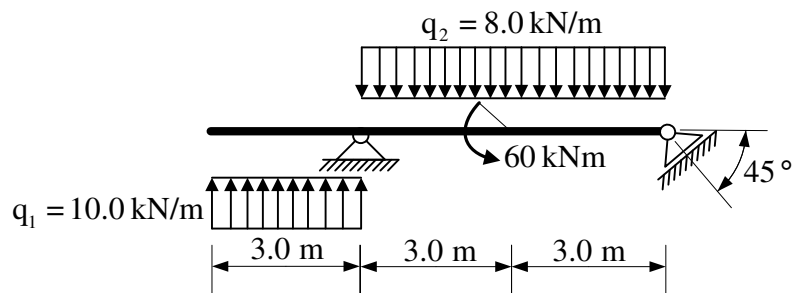


1. Za zadani ravninski sustav odrediti reakcije u ležajevima primjenom verižnog poligona.

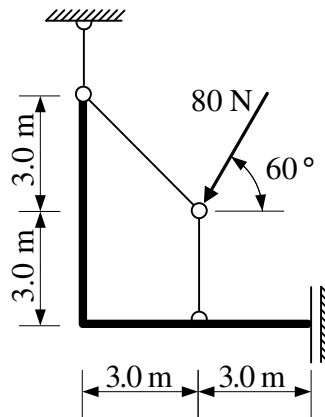


2. Za ravninski sustav iz prvog zadatka odrediti podatke te prikazati M i T dijagrame.

3. Za zadani ravninski sustav računski odrediti podatke te prikazati M, T i N dijagrame.



4. Odrediti sile u svim štapovima zadanog ravninskog sustava grafičkim postupkom.



5. Odrediti sile u spojevima zadanog ravninskog sustava.

