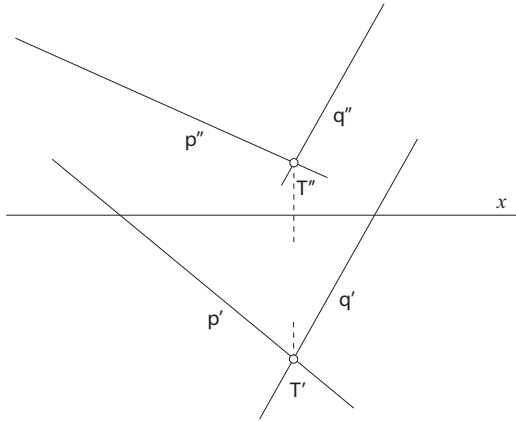
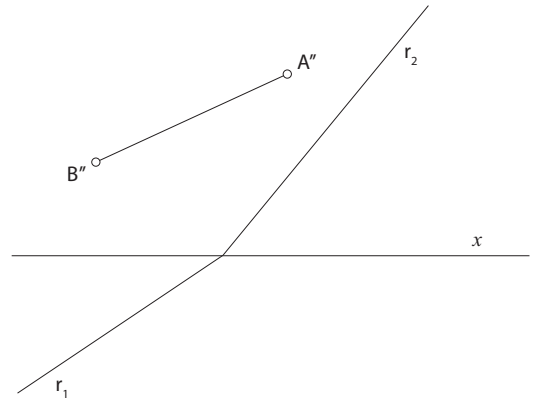


7. vježbe - zadaci za konstrukcijske vježbe

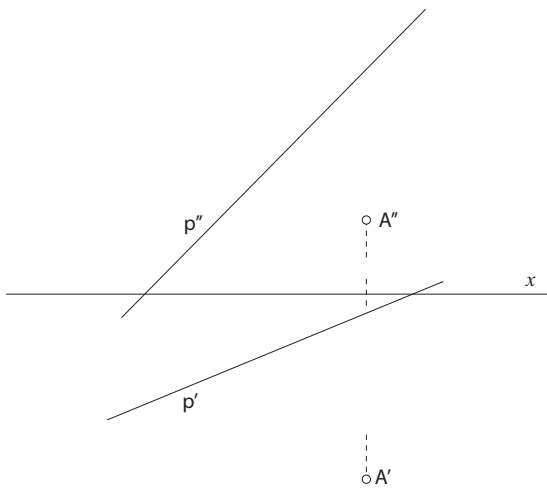
1. Odredite pravu veličinu kuta između pravaca p i q .



3. Konstruirajte projekcije kružnice koja leži u ravnini P , ako je dužina \overline{AB} jedan njezin promjer.



2. Konstruirajte projekcije jednakostraničnog trokuta kojemu je točka A vrh, a stranica mu leži na pravcu p .



4. Konstruirajte projekcije kružnice koja leži u ravnini Δ , ako joj je S središte, a kružnica dodiruje ravninu Π_2 .

